


**25** In den beiden folgenden Teilaufgaben sind insgesamt 6  $t$ - $x$ - und die dazu gehörigen  $t$ - $v$ -Diagramme wiedergegeben.

**25.1** Ordnen Sie die folgenden  $t$ - $x$ -Diagramme (linke Spalte) den entsprechenden  $t$ - $v$ -Diagrammen (rechte Spalte) zu:

<p>1</p>	<p>A</p>	<p>t-x-Diagramm <b>1</b> gehört zu t-v-Diagramm <input type="text"/></p>
<p>2</p>	<p>B</p>	<p>t-x-Diagramm <b>2</b> gehört zu t-v-Diagramm <input type="text"/></p>
<p>3</p>	<p>C</p>	<p>t-x-Diagramm <b>3</b> gehört zu t-v-Diagramm <input type="text"/></p>

**25.2** Ordnen Sie die folgenden  $t$ - $v$ -Diagramme (linke Spalte) den entsprechenden  $t$ - $x$ -Diagrammen (rechte Spalte) zu:

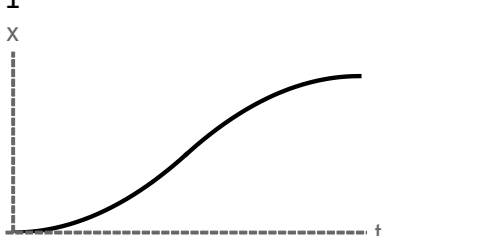
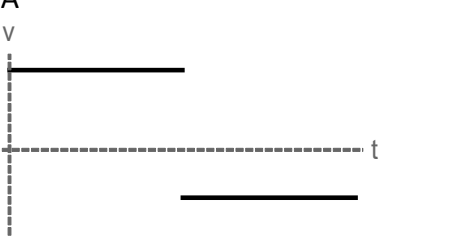
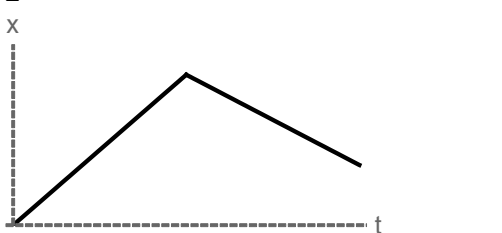

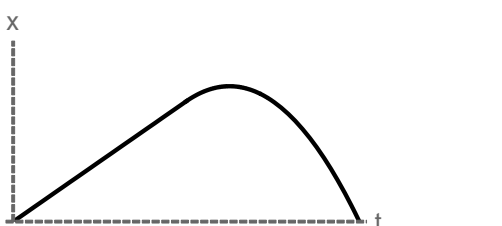
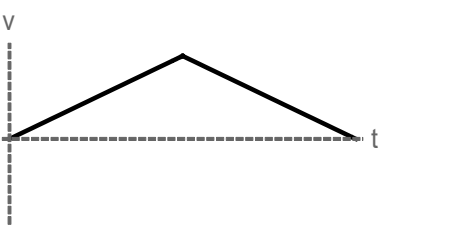
<p>4</p>	<p>D</p>	<p>t-v-Diagramm <b>4</b> gehört zu t-x-Diagramm <input type="text"/></p>
<p>5</p>	<p>E</p>	<p>t-v-Diagramm <b>5</b> gehört zu t-x-Diagramm <input type="text"/></p>
<p>6</p>	<p>F</p>	<p>t-v-Diagramm <b>6</b> gehört zu t-x-Diagramm <input type="text"/></p>




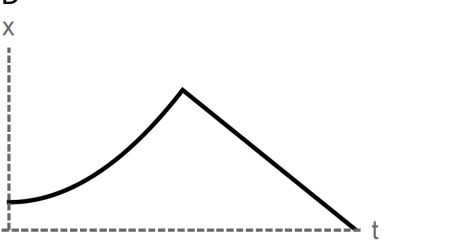
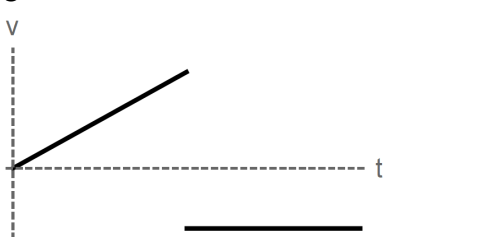
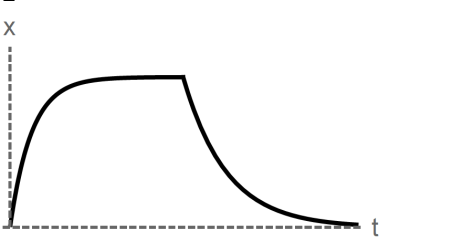
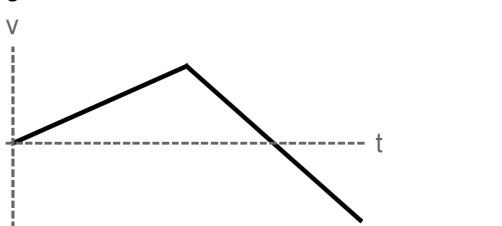
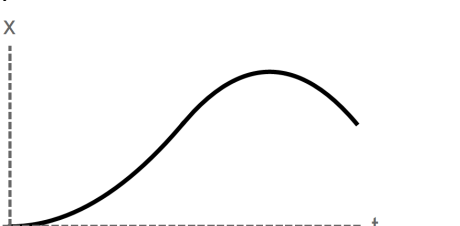
# Musterlösung zu 01-25

**25** In den beiden folgenden Teilaufgaben sind insgesamt 6  $t$ - $x$ - und die dazu gehörigen  $t$ - $v$ -Diagramme wiedergegeben.

**25.1** Ordnen Sie die folgenden  $t$ - $x$ -Diagramme (linke Spalte) den entsprechenden  $t$ - $v$ -Diagrammen (rechte Spalte) zu:

<p>1</p> 	<p>A</p> 	<p>t-x-Diagramm <b>1</b> gehört zu t-v-Diagramm <b>C</b></p>
<p>2</p> 	<p>B</p> 	<p>t-x-Diagramm <b>2</b> gehört zu t-v-Diagramm <b>A</b></p>
<p>3</p> 	<p>C</p> 	<p>t-x-Diagramm <b>3</b> gehört zu t-v-Diagramm <b>B</b></p>

**25.2** Ordnen Sie die folgenden  $t$ - $v$ -Diagramme (linke Spalte) den entsprechenden  $t$ - $x$ -Diagrammen (rechte Spalte) zu:

<p>4</p> 	<p>D</p> 	<p>t-v-Diagramm <b>4</b> gehört zu t-x-Diagramm <b>E</b></p>
<p>5</p> 	<p>E</p> 	<p>t-v-Diagramm <b>5</b> gehört zu t-x-Diagramm <b>D</b></p>
<p>6</p> 	<p>F</p> 	<p>t-v-Diagramm <b>6</b> gehört zu t-x-Diagramm <b>F</b></p>